

-	0-9	10-19	20-29	30-39	40-49	50-59	60-69	70-79	80-89	90-99
0	zero	dieci	venti	trenta	quaranta	cinquanta	sessanta	settanta	ottanta	novanta
1	uno	undici	ventuno	trentuno	quarantuno	cinquantuno	sessantuno	settantuno	ottantuno	novantuno
2	due	dodici	ventidue	trentadue	quarantadue	cinquantadue	sessantadue	settantadue	ottantadue	novantadue
3	tre	tredici	ventitré	trentatré	quarantatré	cinquantatré	sessantatré	settantatré	ottantatré	novantatré
4	quattro	quattordici	ventiquattro	trentaquattro	quarantaquattro	cinquantaquattro	sessantaquattro	settantaquattro	ottantaquattro	novantaquattro
5	cinque	quindici	venticinque	trentacinque	quarantacinque	cinquantacinque	sessantacinque	settantacinque	ottantacinque	novantacinque
6	sei	sedici	ventisei	trentasei	quarantasei	cinquantasei	sessantasei	settantasei	ottantasei	novantasei
7	sette	diciassette	ventisette	trentasette	quarantasette	cinquantasette	sessantasette	settantasette	ottantasette	novantasette
8	otto	diciotto	ventotto	trentotto	quarantotto	cinquantotto	sessantotto	settantotto	ottantotto	novantotto
9	nove	diciannove	ventinove	trentanove	quarantanove	cinquantanove	sessantanove	settantanove	ottantanove	novantanove

Come si scrivono in lettere i numeri da 0 a 100 e i simboli delle quattro operazioni

0	ZERO
1	UNO
2	DUE
3	TRE
4	QUATTRO
5	CINQUE
6	SEI
7	SETTE
8	OTTO
9	NOVE

10	DIECI
11	UNDICI
12	DODICI
13	TREDICI
14	QUATTORDICI
15	QUINDICI
16	SEDICI
17	DICIASSETTE
18	DICIOTTO
19	DICIANNOVE

20	VENTI
21	VENTUNO
22	VENTIDUE
23	VENTITRE
24	VENTIQUATTRO
25	VENTICINQUE
26	VENTISEI
27	VENTISETTE
28	VENTOTTO
29	VENTINOVE

30	TRENTA
31	TRENTUNO
32	TRENTADUE
33	TRENTATRE
34	TRENTAQUATTRO
35	TRENTACINQUE
36	TRENTASEI
37	TRENTASETTE
38	TRENTOTTO
39	TRENTANOVE

40	QUARANTA
41	QUARANTUNO
42	QUARANTADUE
43	QUARANTATRE
44	QUARANTAQUATTRO
45	QUARANTACINQUE
46	QUARANTASEI
47	QUARANTASETTE
48	QUARANTOTTO
49	QUARANTANOVE

50	CINQUANTA
51	CINQUANTUNO
52	CINQUANTADUE
53	CINQUANTATRE
54	CINQUANTAQUATTRO
55	CINQUANTACINQUE
56	CINQUANTASEI
57	CINQUANTASETTE
58	CINQUANTOTTO
59	CINQUANTANOVE

60	SESSANTA
61	SESSANTUNO
62	SESSANTADUE
63	SESSANTATRE
64	SESSANTAQUATTRO
65	SESSANTACINQUE
66	SESSANTASEI
67	SESSANTASETTE
68	SESSANTOTTO
69	SESSANTANOVE

70	SETTANTA
71	SETTANTUNO
72	SETTANTADUE
73	SETTANTATRE
74	SETTANTAQUATTRO
75	SETTANTACINQUE
76	SETTANTASEI
77	SETTANTASETTE
78	SETTANTOTTO
79	SETTANTANOVE

80	OTTANTA
81	OTTANTUNO
82	OTTANTADUE
83	OTTANTATRE
84	OTTANTAQUATTRO
85	OTTANTACINQUE
86	OTTANTASEI
87	OTTANTASETTE
88	OTTANTOTTO
89	OTTANTANOVE

90	NOVANTA
91	NOVANTUNO
92	NOVANTADUE
93	NOVANTATRE
94	NOVANTAQUATTRO
95	NOVANTACINQUE
96	NOVANTASEI
97	NOVANTASETTE
98	NOVANTOTTO
99	NOVANTANOVE
100	CENTO

+	PIÙ
-	MENO

x	PER
:	DIVISO

=	UGUALE
---	--------

IO

Collega i numeri
alle parole

www.scolasticando.it

- | | |
|----|---------|
| 0 | tre |
| 3 | uno |
| 1 | zero |
| 4 | cinque |
| 2 | quattro |
| 5 | due |
| 7 | sei |
| 6 | sette |
| 8 | dieci |
| 10 | nove |
| 9 | otto |

SCRIVI I NUMERI IN LETTERE

0

1

2

3

4

5

6

7

8

9

10

11

12

13

14

15


16

17

18


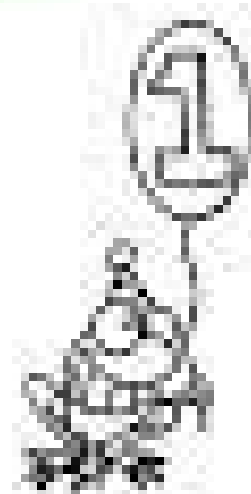
19

20



UNICI CON UNA LINEA

Undici	13
Venti	16
Sedici	19
Dodici	11
Diciannove	15
Tredici	14
Quindici	12
Diciassette	20
Quattordici	18
Diciotto	17
Dieci	10
Tre	4
Sette	0
Nove	7
Quattro	3
Cinque	9
Zero	8
Uno	2
Otto	6
Due	1
Sei	5



20

Collega i numeri
alle parole

www.scolasticando.it

11

tredici

13

dodici

12

undici

15

quattordici

14

sedici

16

quindici

18

diciannove

17

diciotto

19

diciassette

10

venti

SCHEDA 2

5

DODICI

18

SEDICI

16

CINQUE

1

OTTO

8

DIECI

12

UNO

10

DICIOTTO

2

DUE



SCHEDA 1

4

12

7

15

3

9

11

16

SEDICI

TRE

UNDICI

NOVE

QUATTRO

QUINDICI

SETTE

DODICI



SCHEDA 4

43 CINQUANTADUE

33 QUARANTASEI

28 QUARANTATRE

46 QUARANTANOVE

41 TRENTATRE

52 DICIOTTO

49 VENTOTTO

18 QUARANTUNO



COLLEGA CON LA FRECCIA IL NUMERO IN CIFRA AL
CORRISPONDENTE NUMERO IN LETTERE.

10

quindici

18

venti

12

quattordici

16

dieci

20

diciassette

15

treddici

14

dodici

17

sedici

11

diciotto

19

undici

13

diciannove

I numeri da 11 a 20

- Collega come nel primo esempio.

DICIASSETTE	15	$10 + 2$
DODICI	16	$10 + 6$
TREDICI	19	$10 + 3$
QUINDICI	17	$10 + 4$
VENTI	12	$10 + 10$
DICIOTTO	18	$10 + 1$
UNDICI	14	$10 + 7$
SEDICI	13	$10 + 8$
DICIANNOVE	11	$10 + 5$
QUATTORDICI	20	$10 + 9$

SCRIVI I NUMERI IN CIFRE

Sai

Diciassette

Sedici

Dodici

Zero

Sette

Quindici

Venti

Quattordici

Diciotto

Dieci

Tre

Tredici

Nove

Quattro

Cinque

Diciannove

Uno

Otto

Undici

Due



10	=	_____
15	=	_____
18	=	_____
20	=	_____
17	=	_____
3	=	_____
5	=	_____
4	=	_____
9	=	_____
19	=	_____
16	=	_____
6	=	_____
7	=	_____
13	=	_____
2	=	_____
12	=	_____
14	=	_____
8	=	_____

Nome Classe Data

I NUMERI OLTRE IL 100

• Prima leggi il numero, poi scrivilo in parola.

124 →

165 →

118 →

192 →

109 →

130 →

207 →

354 →

425 →

273 →

NUMERI GRANDI: DALLA PAROLA IN CIFRE E VICEVERSA

- Osserva l'esempio e poi prosegui.

Tremilanovecentosei	3•906
Tremilatrentadue
Duemilacentodieci
Quattromilauno
Millequindici
Cinquemilacento
Millecinquanta
Millecinque
Millecinquecento

- Scrivi in lettere questi numeri.

3•076	tremilasettantasei
4•810
5•000
2•904
5•105
5•015
5•501

Inserisci tra i due numeri il segno corretto

> (maggiore)

o

< (minore)

trentasei



novantasei

sessanta



ottantasei

quarantotto



trentasette

quaranta



ottantotto

cinquantotto



settantasei

trentasei



novantasei

novantasette



ottantaquattro

sessanta



ventidue

Calcola correttamente

a. La metà di ventiquattro è

dodici

b. Il doppio di sedici è

c. Quindici più venti fa

d. Tredici meno undici fa

e. La metà di quattordici è

f. Il doppio di sette è

g. Undici meno cinque fa

h. Diciannove più quattro fa

i. La metà di dodici è

j. Il doppio di undici è

k. La metà di trentadue è

SCRIVI I NUMERI IN CIFRE

UNO	
OTTO	
SEI	
QUATTRO	
TRE	
SETTE	
CINQUE	
DUE	
NOVE	
UNDICI	
TREDICI	
DIECI	
DODICI	
QUINDICI	
DICIASSETTE	
QUATTROORDICI	
SEDICI	
DICIOTTO	
VENTI	
DICIANNOVE	
VENTIDUE	
VENTIQUATTRO	
VENTITRE	
VENTUNO	
VENTISETTE	
VENTOTTO	
VENTISEI	
VENTINOVE	
VENTICINQUE	
TRENTA	

Per ognuno di questi conti indica se il risultato è corretto o sbagliato, se è sbagliato scrivi il risultato corretto

a. Diciotto più tredici fa trentuno	vero	falso	<input type="checkbox"/>
b. Diciassette più tredici fa venti	vero	falso	<input type="checkbox" value="30"/>
c. Quindici più dodici fa ventisette	vero	falso	<input type="checkbox"/>
d. Quaranta più trenta fa sessanta	vero	falso	<input type="checkbox"/>
e. Quattordici più quattro fa diciotto	vero	falso	<input type="checkbox"/>
f. Quattro più diciassette fa trentuno	vero	falso	<input type="checkbox"/>
g. Quindici più nove fa ventiquattro	vero	falso	<input type="checkbox"/>
h. Quattro più diciotto fa trentadue	vero	falso	<input type="checkbox"/>
i. Ventuno più ventuno fa quarantuno	vero	falso	<input type="checkbox"/>
j. Ventitré più tre fa trentasei	vero	falso	<input type="checkbox"/>
k. Dodici meno tre fa nove	vero	falso	<input type="checkbox"/>
l. Sedici meno otto fa dodici	vero	falso	<input type="checkbox"/>
m. Quindici meno tredici fa due	vero	falso	<input type="checkbox"/>
n. Diciassette meno quindici fa dodici	vero	falso	<input type="checkbox"/>
o. Ventuno meno diciannove fa otto	vero	falso	<input type="checkbox"/>
p. Ventitré meno tredici fa dieci	vero	falso	<input type="checkbox"/>

Crucipuzzle

Individua nello schema in orizzontale, in verticale, in diagonale i numeri indicati. Dopo aver eliminato tutti i numeri resteranno delle lettere che formeranno un altro numero. Qual è il numero che rimane?


D	Q	U	A	R	A	N	T	A	U	D
I	U	S	D	V	S	E	R	S	N	I
C	A	S	O	V	E	A	E	N	D	C
I	R	T	D	E	D	N	N	T	I	I
A	A	R	I	N	I	A	T	S	C	O
N	N	E	C	T	C	E	U	U	I	T
N	T	D	I	I	I	T	N	T	N	T
O	U	I	V	E	N	T	O	T	T	O
V	N	C	I	N	Q	U	A	N	T	A
E	O	I	S	E	S	S	A	N	T	A
T	R	E	N	T	A	N	O	V	E	E

11	12	13
16	18	19
20	21	28
31	39	40
41	50	


Il numero che è rimasto è: 37 52 67 84

I solidi geometrici


- Coloro di **rosso** i poliedri e di **blu** i solidi di rotazione.




PRISMA
ESAGONALE




CUBO




CILINDRO




SFERA



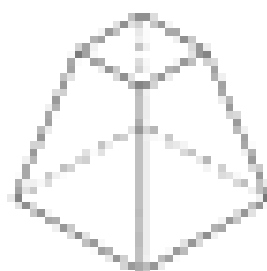
PIRAMIDE
QUADRANGOLARE




PRISMA
TRIANGOLARE



CONO



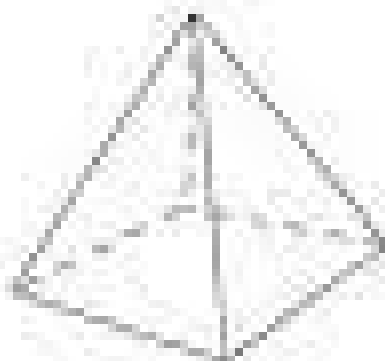
TRONCO
DI PIRAMIDE




TRONCO
DI CONO

I SOLIDI


Con una freccia metti in corrispondenza ogni cartellino con il solido.



parallelepipedo



cilindro




piramide



cubo



cono



sfera